



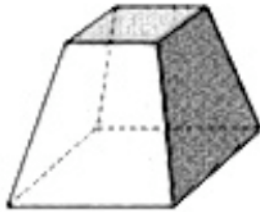


CUERPOS GEOMÉTRICOS

1.- Observa las figuras y completa la tabla

	N.º bases	Forma bases	N.º caras laterales	Forma caras laterales	Nombre
A 					
B 					
C 					
D 					

2.- Clasifica esta figura



3.- Para forrar de tela un prisma pentagonal, se necesitan 12 metros de tela azul para cada pared y 4 metros para cada base. ¿Cuánta tela hace falta en total?

4.- Un pintor necesita un bote de pintura para cada lateral, y bote y medio para cada base de esta figura. Si un bote cuesta 12,50 euros, ¿cuánto cuesta pintar la figura completa?

