

SEGUNDO TRIMESTRE

Unidad 3. Matemáticas

AA

Nombre y apellidos:

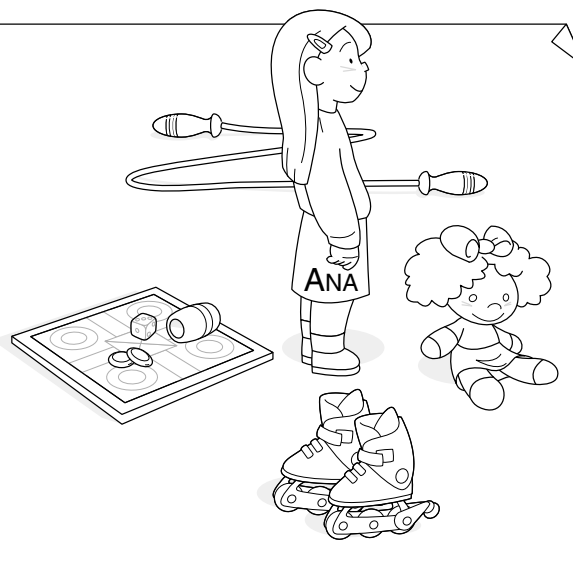

Curso: Fecha:

 Observa y contesta.

¿Con qué juega cada niño si lo hace con el juguete que tiene:

a su izquierda?

a su derecha?



 Completa:

$2 \times 4 = \square$

$2 \times 2 = \square$

$2 \times \square = 10$

$2 \times \square = 14$


$2 \times 6 = \square$

$2 \times 9 = \square$


$2 \times \square = 6$

$2 \times \square = 16$

 Dibuja el doble y completa:



$2 \times \square = \square$



$\square \times \square = \square$