

UNIDAD 1

Los seres vivos. Las plantas

AR

Nombre y apellidos:

Curso: Fecha:

- 1 Completa esta tabla en la que aparecen los elementos que forman parte de los seres vivos, lo que son y algunos ejemplos de cada uno.

CÉLULAS		Células musculares
	Están formados por células del mismo tipo.	
		Estómago, lengua, cerebro
APARATOS Y SISTEMAS		

- 2 Escribe las palabras *raíz*, *tallo* y *hojas* en los lugares correspondientes del dibujo.

- 3 Completa estas frases relacionadas con la función de nutrición de las plantas:

En la fotosíntesis, el de carbono entra en las hojas por unos orificios llamados

y por ellos sale

La fotosíntesis necesita energía


En la respiración, las plantas toman

y desprenden de

La savia bruta está formada por

y sales, y la savia elaborada, por

agua e de



UNIDAD 1

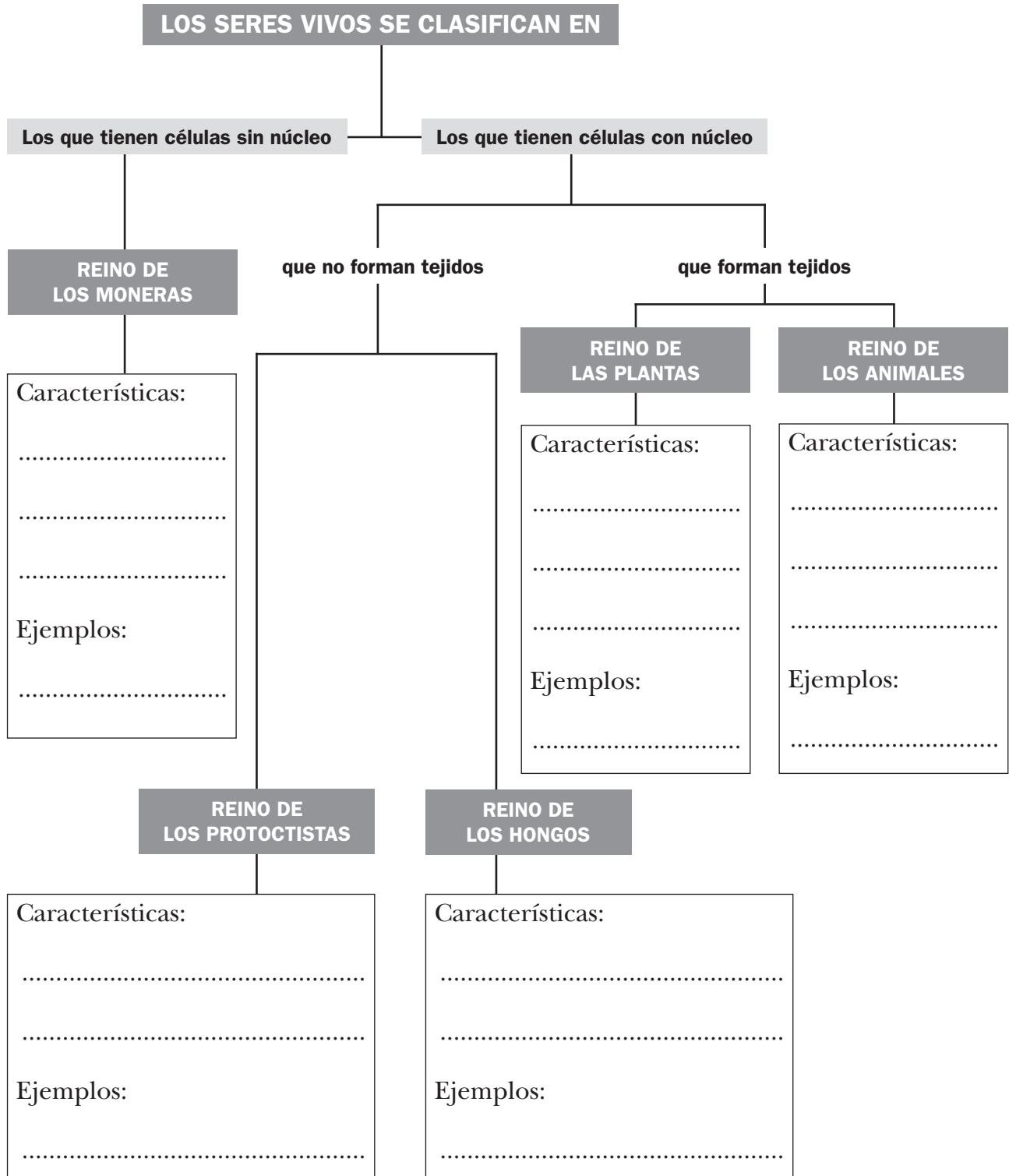
Los seres vivos. Las plantas

AR

Nombre y apellidos:

Curso: Fecha:

4 Completa este esquema de los cinco reinos.



UNIDAD 1


Los seres vivos. Las plantas

AR

Nombre y apellidos:

Curso: Fecha:

5 Completa la información sobre las partes de la planta.



A) Parte de la planta:
.....

Funciones que realiza:
.....
.....
.....

B) Parte de la planta:
.....

Funciones que realiza:
.....
.....
.....

C) Parte de la planta:
.....

Funciones que realiza:
.....
.....
.....