

SEGUNDO TRIMESTRE

Unidad 2. Matemáticas

AA

Nombre y apellidos:

Curso: Fecha:

 Realiza las restas para estas sumas:

$$8 + 9 = \square$$

$$6 + 7 = \square$$

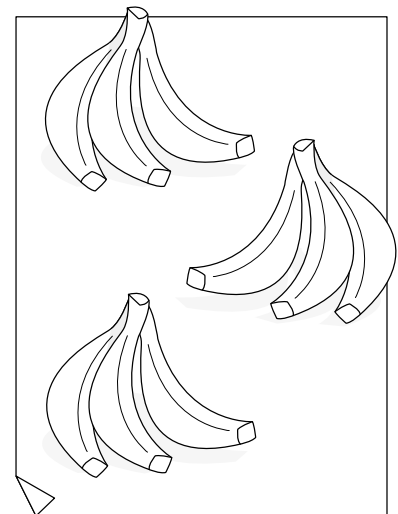

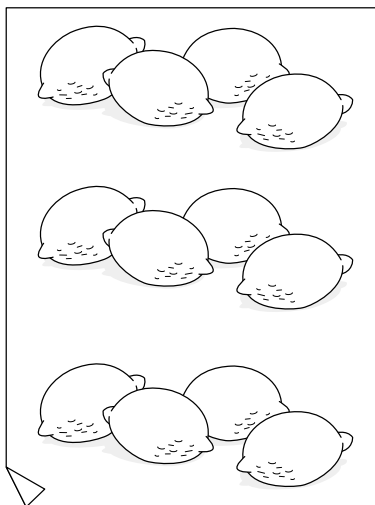
$$\square - \square = \square$$

$$\square - \square = \square$$

$$\square - \square = \square$$

$$\square - \square = \square$$


 Completa.



$$4 \times 3 = \square$$

$$\square \times \square = \square$$

$$\square \times \square = \square$$

 Dibuja el billete que vale lo mismo que estas monedas:

