

# TERCER TRIMESTRE

## Unidad 5. Matemáticas

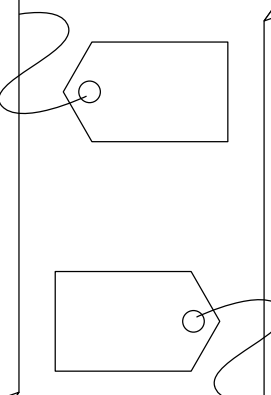
AA

Nombre y apellidos: .....

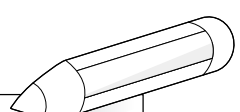
Curso: ..... Fecha: .....

 Lee, piensa y contesta.

- Tiene 3 centenas.
- La suma de las cifras de las decenas y de las unidades es 8.
- La cifra de las unidades es par y mayor que la cifra de las decenas.



- La cifra de las unidades es el doble de la cifra de las centenas.
- El lugar de la decena lo ocupa un 0.
- Tiene 40 decenas.



 Opera.


$$\begin{array}{r} 523 \\ 17 \\ + 26 \\ \hline \square \end{array}$$

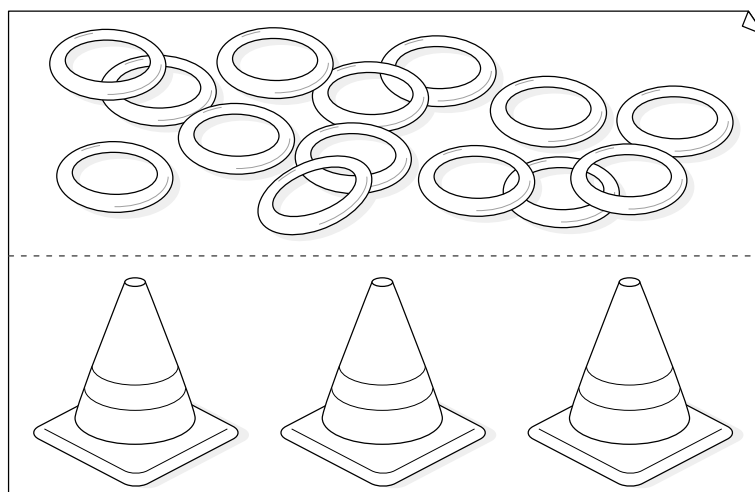
$$\begin{array}{r} 128 \\ 248 \\ + 13 \\ \hline \square \end{array}$$

$$\begin{array}{r} 842 \\ - 224 \\ \hline \square \end{array}$$

$$\begin{array}{r} 216 \\ - 28 \\ \hline \square \end{array}$$

$$\begin{array}{r} 978 \\ - 128 \\ \hline \square \end{array}$$

 Reparte los aros entre los 3 conos.



¿Cuántos hay para cada cono?  aros.

¿Cuántos sobran?  aros.