

PRIMER TRIMESTRE

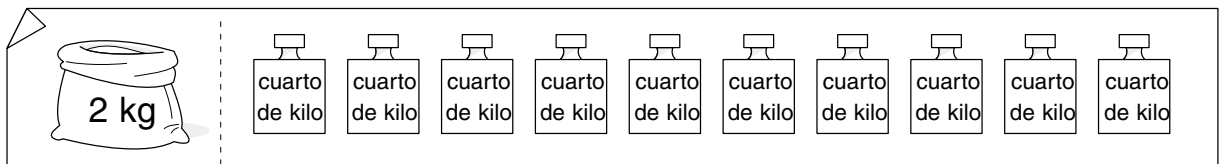
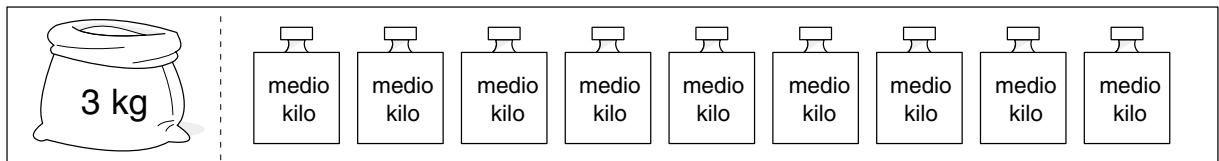
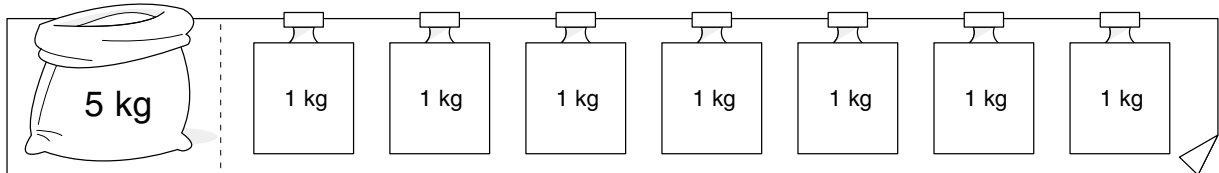
Unidad 5. Matemáticas


AA

Nombre y apellidos:


Curso: Fecha:

 Colorea las pesas que necesitas.



 Problema.

Eva ha comprado 1 kilo de naranjas, medio kilo de manzanas, un cuarto de kilo de mandarinas y otro cuarto de kilo de uvas. ¿Cuántos kilos de fruta ha comprado en total?



Eva ha comprado kilos de fruta.

 Completa.

