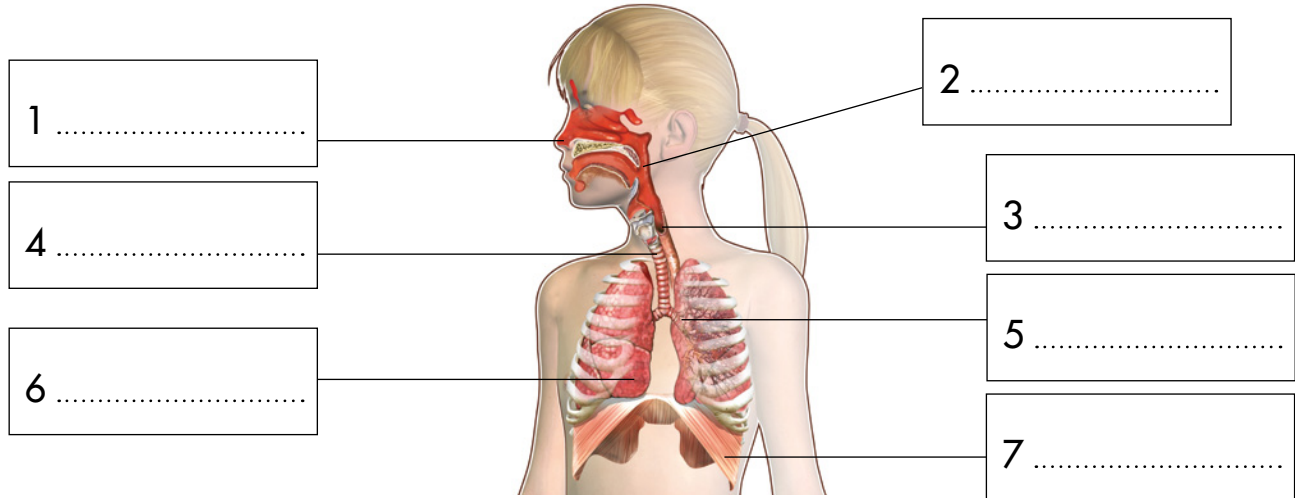


Nombre y apellidos:

Curso: Fecha:

1 Completa en el dibujo las partes del aparato respiratorio.



a) ¿Qué son los alvéolos pulmonares? ¿Qué sucede en ellos?

.....
.....

b) ¿Qué es el diafragma?

.....
.....

2 Completa estas frases:

a) La sangre recoge las de
que se producen en todos los del cuerpo.

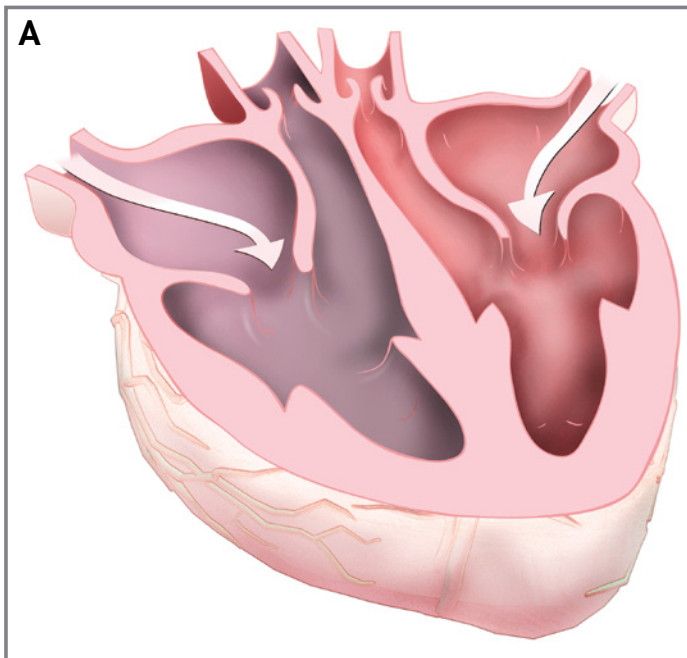
b) El corazón impulsa la sangre y llega a todas las partes del cuerpo a través de unos y regresa a él por otros.

c) La sangre transporta el y los nutrientes y los lleva a todos los del cuerpo.

Nombre y apellidos:

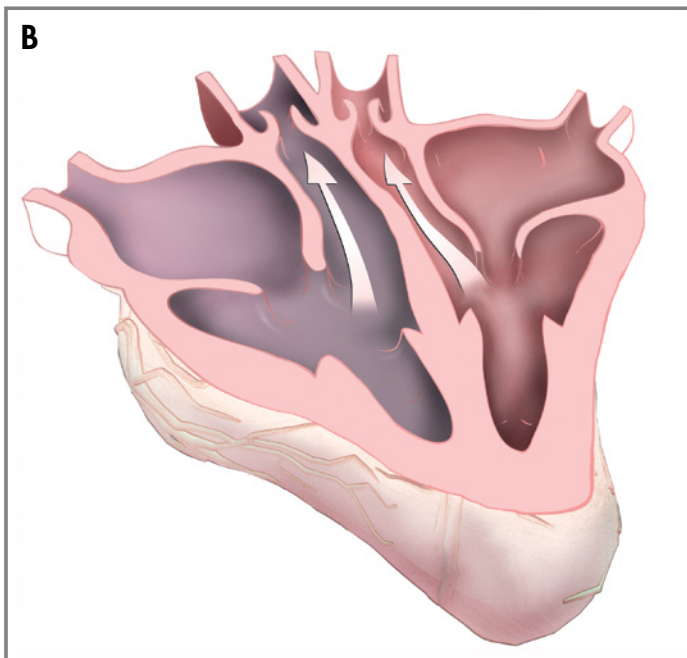
3 Explica lo que sucede en cada uno de los dibujos:

.....
.....
.....
.....
.....
.....
.....
.....
.....



.....
.....

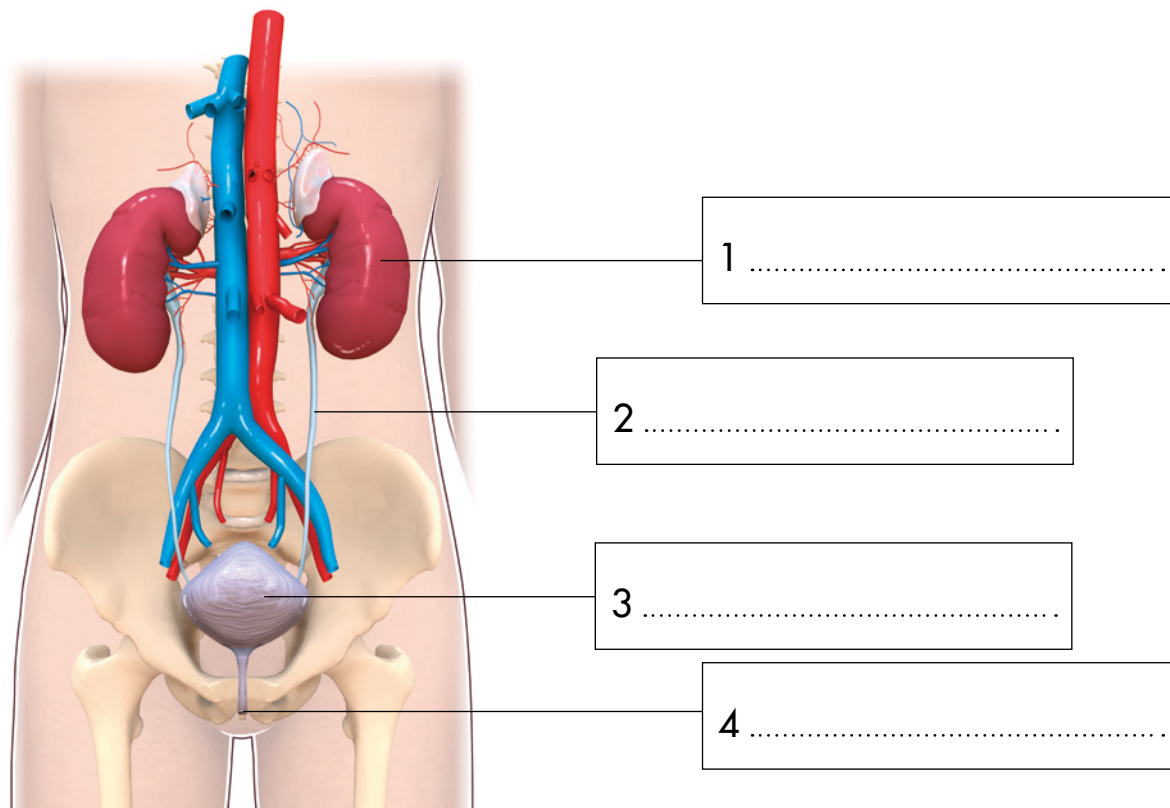
.....
.....
.....
.....
.....
.....
.....
.....
.....



.....
.....

Nombre y apellidos:

4 Completa en el dibujo las partes del aparato excretor.



a) ¿Qué función realizan los riñones?

.....

.....

5 Di dónde se forman estas sustancias de desecho y por dónde se expulsan.

a) La orina:

.....

b) El sudor:

.....

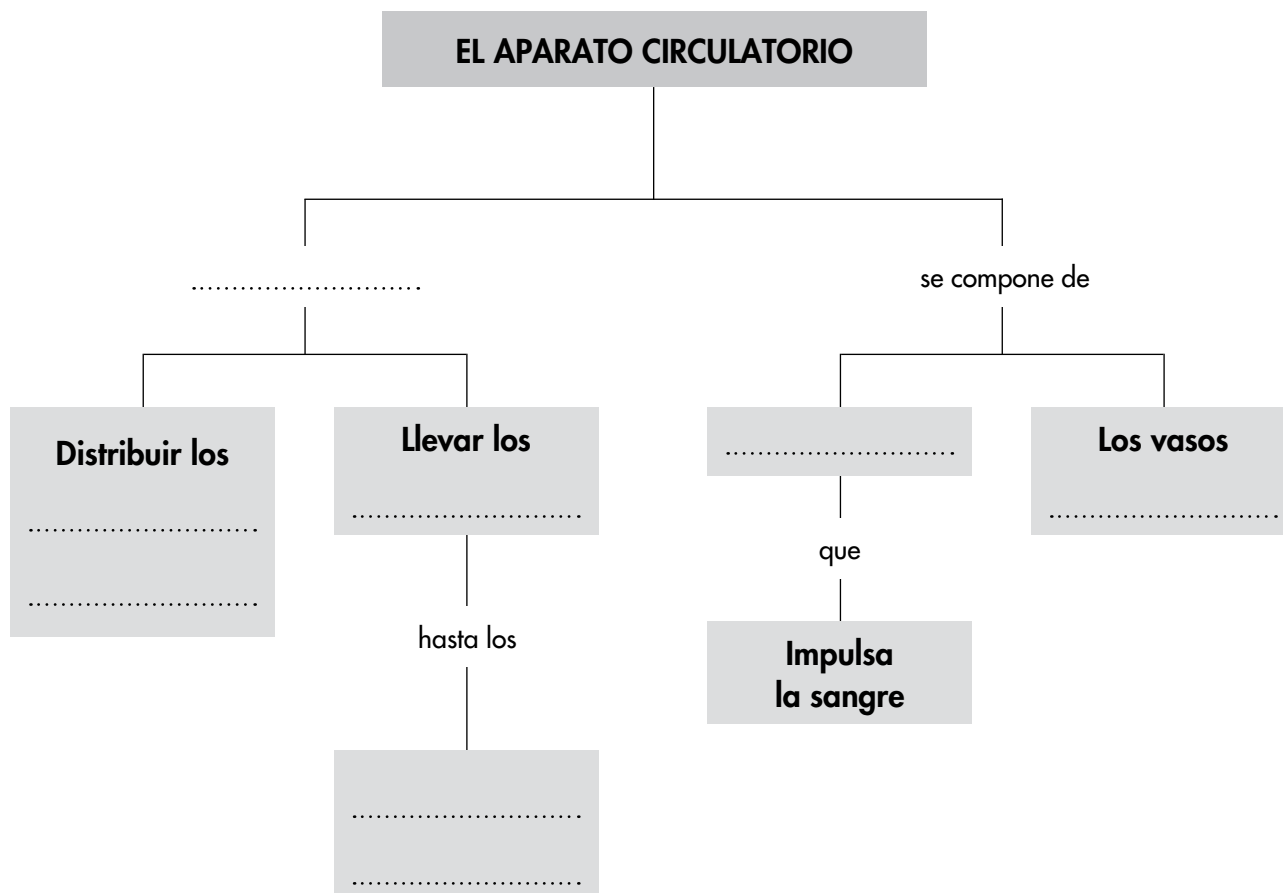
c) El dióxido de carbono:

.....

Nombre y apellidos:

6 Realiza las actividades relacionadas con el esquema:

a) Completa los cuadros vacíos:



b) Escribe las frases que se forman siguiendo las distintas líneas del esquema.

1. El aparato circulatorio distribuir los

..... y de llevar los

.....

2. El aparato circulatorio se compone de

que, y de los vasos

c) Amplía el esquema con los términos: paredes, músculos, tiene, cavidades.