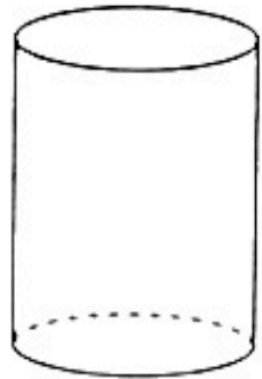
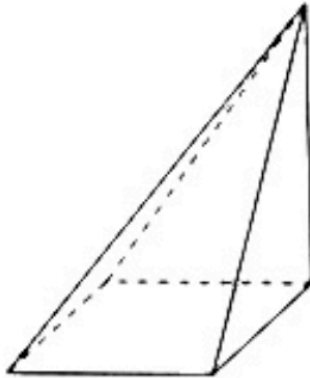
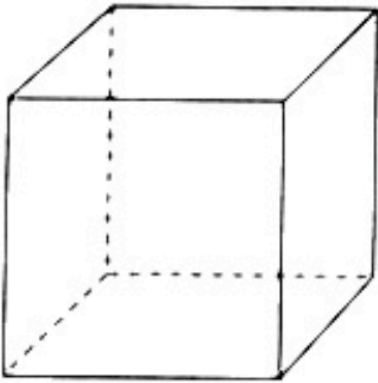


CUERPOS GEOMÉTRICOS

1.- Colorea estas figuras de la siguiente manera: las aristas en rojo, en amarillo las caras planas y en verde los vértices



2.- ¿Qué figuras del ejercicio anterior son poliedros?

3.- Copia estas afirmaciones y complétalas

- Un prisma que tiene tres caras laterales se llama _____
- Un prisma cuya base es un pentágono se llama _____
- Una pirámide cuya base es un cuadrado se llama _____
- Una pirámide que tiene seis caras laterales se llama _____

4.- Completa esta tabla

Número de bases	Número de caras laterales	Nombre de la figura
1	4	
2	5	
1	1	
2	1	