




# Actividad 1



- Tachar la operación incorrecta
- Resolver la operación correcta

Ángela ha puesto 12 velas en una tarta. Su hermana ha colocado 23 velas en la misma tarta. ¿Cuántas velas tiene la tarta ahora?

Dibuja una tarta con velas




$$\begin{array}{r} 23 \\ + 12 \\ \hline \end{array}$$



$$\begin{array}{r} 23 \\ - 12 \\ \hline \end{array}$$


Ángela ha puesto \_\_\_\_\_ velas.

Su hermana ha puesto \_\_\_\_\_ velas.

La tarta tiene \_\_\_\_\_ velas.