


# SEGUNDO TRIMESTRE

## Unidad 5. Matemáticas

AA

Nombre y apellidos: .....

Curso: ..... Fecha: .....

 Escribe el término que falta.


$$\begin{array}{r} 837 \\ + \square \\ \hline 960 \end{array}$$


$$\begin{array}{r} 726 \\ + \square \\ \hline 983 \end{array}$$

$$\begin{array}{r} 653 \\ + \square \\ \hline 812 \end{array}$$

$$\begin{array}{r} 548 \\ + \square \\ \hline 773 \end{array}$$

 Completa.



 Colorea: cuadriláteros  $\rightarrow$  marrón      triángulos  $\rightarrow$  verde  
 pentágonos  $\rightarrow$  amarillo

