

UNIDAD 15

Matemáticas


AA

Nombre y apellidos:

Curso: Fecha:

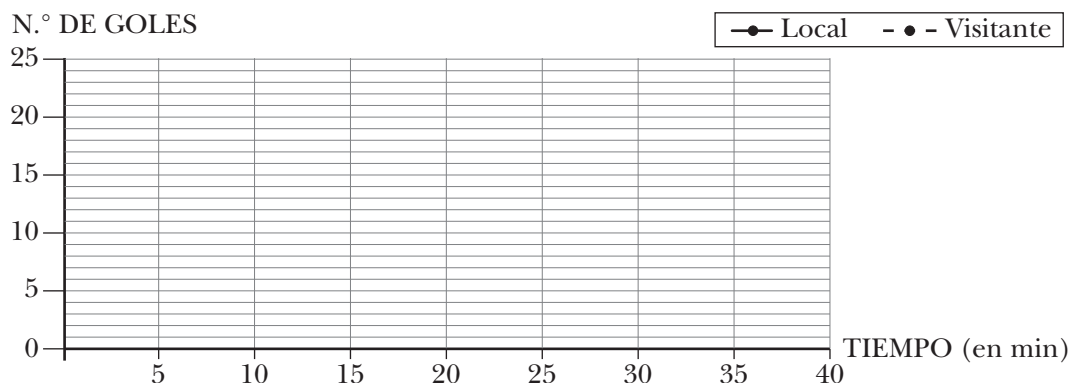
- 1 En la granja de Lola hay 30 patos, 45 gallinas y 15 cabras. En la granja de Pablo hay 15 patos, 60 gallinas y 20 cabras. Recoge estos datos en una tabla de frecuencias y represéntalos en un diagrama de barras doble.

GRANJA	PATOS	GALLINAS	CABRAS
LOLA			
PABLO			



- 2 En esta tabla se ha recogido, cada 5 minutos, el resultado de un partido de balonmano. Representa los datos en una gráfica de líneas doble.

TIEMPO	5 min	10 min	15 min	20 min	25 min	30 min	35 min	40 min
LOCAL	3	5	9	12	14	17	20	24
VISITANTE	1	2	7	12	15	18	20	23



¿Qué equipo ganó el partido? ¿En qué minutos estaban empatados?

¿En qué minuto hubo mayor diferencia de goles?

UNIDAD 15

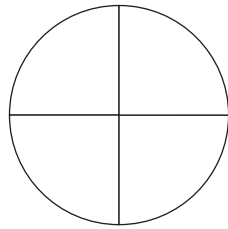
Matemáticas

AA

Nombre y apellidos:

Curso: Fecha:

- 3 En un cine hay mil personas. Doscientas cincuenta tienen menos de 18 años, quinientas personas tienen entre 18 y 60 años, y el resto tienen más de 60 años. Representa estos datos en un gráfico de sectores:



- Menos de años.
-
-

- 4 Estas son las alturas de dos equipos de baloncesto:

EQUIPO A		EQUIPO B	
ROSA	124 cm	MANOLO	142 cm
CAROLINA	146 cm	ALMUDENA	133 cm
ANA	137 cm	LUIS	122 cm
CARLOS	133 cm	PAULA	138 cm
SERGIO	145 cm	CRISTINA	135 cm

- a) Calcula la altura media de cada equipo →
- b) Calcula la altura media de las niñas de los dos equipos →
- c) Calcula la altura media de los niños de los dos equipos →

- 5 Calcula.

- a) El valor medio de tres números es 75. Uno de los números es 94, y el otro, 43. ¿Cuál es el tercero?
- b) Escribe cinco números cuyo valor medio sea 13.

.....

.....