

RESTAS LLEVANDO

Nombre: _____ Fecha: _____

1.- Pasa una decena a unidades y resta

$$\begin{array}{r} \square \square \\ 43 \\ - 27 \\ \hline \square \end{array}$$

$$\begin{array}{r} \square \square \\ 72 \\ - 45 \\ \hline \square \end{array}$$

$$\begin{array}{r} \square \square \\ 81 \\ - 36 \\ \hline \square \end{array}$$

$$\begin{array}{r} \square \square \\ 90 \\ - 14 \\ \hline \square \end{array}$$

2.- Calcula



$$\begin{array}{r} \square \square \\ 52 \\ - 18 \\ \hline \square \end{array}$$

$$\begin{array}{r} \square \square \\ 64 \\ - 27 \\ \hline \square \end{array}$$

$$\begin{array}{r} \square \square \\ 87 \\ - 35 \\ \hline \square \end{array}$$





3.- Coloca los números y resta

$$53 - 18$$

$$64 - 27$$

$$72 - 9$$

$$91 - 8$$

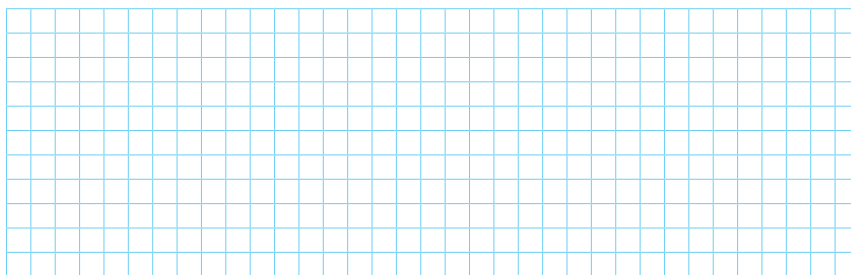



4.- Piensa y escribe

Una resta sin llevar. $\begin{array}{r} \square \\ - \square \\ \hline \square \end{array}$

Una resta llevando. $\begin{array}{r} \square \\ - \square \\ \hline \square \end{array}$

5.- Calcula todas las restas que puedas con los tres números dados



6.- Resuelve

- En un autobús van 25 personas. En una parada se bajan 9. ¿Cuántas personas quedan en el autobús?

Datos ► y

Operación ►



Solución ►

- Un minicine tiene 90 butacas y hay 32 ocupadas. ¿Cuántas quedan libres?

Datos ► y

Operación ►

Solución ►