

SEGUNDO TRIMESTRE

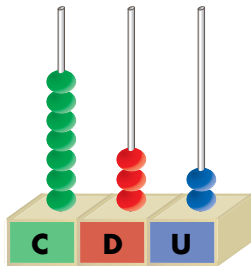
Unidad 3. Matemáticas

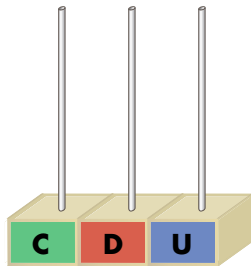
AR

Nombre y apellidos:

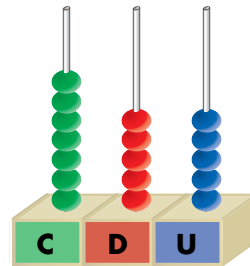
Curso: Fecha:

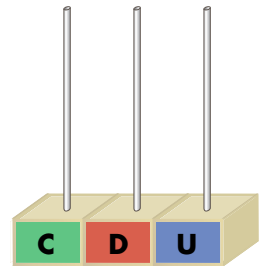
Completa y ordena los números de menor a mayor.





785






707

Problema.

¿Cuántas personas van en los barcos?



Calcula en forma de suma.

$$\square \bigcirc \square = \square$$

Calcula en forma de multiplicación.

$$\square \bigcirc \square = \square$$

Van personas.

Coloca y realiza.

		5	6	4	+	2	2	8				5	6	2	-	4	0	8			