


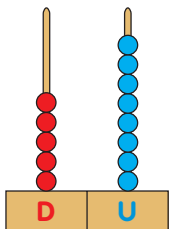
NÚMEROS HSATA EL 99

Nombre: _____ Fecha: _____

1.- Completa las series

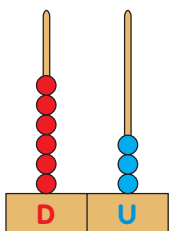


2.- Completa y escribe cómo se lee el número representado en cada ábaco



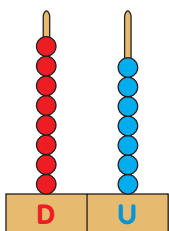
$$\square \text{ D} + \square \text{ U} = \square + \square = \square$$

58 ▶



$$\square \text{ D} + \square \text{ U} = \square + \square = \square$$




▶

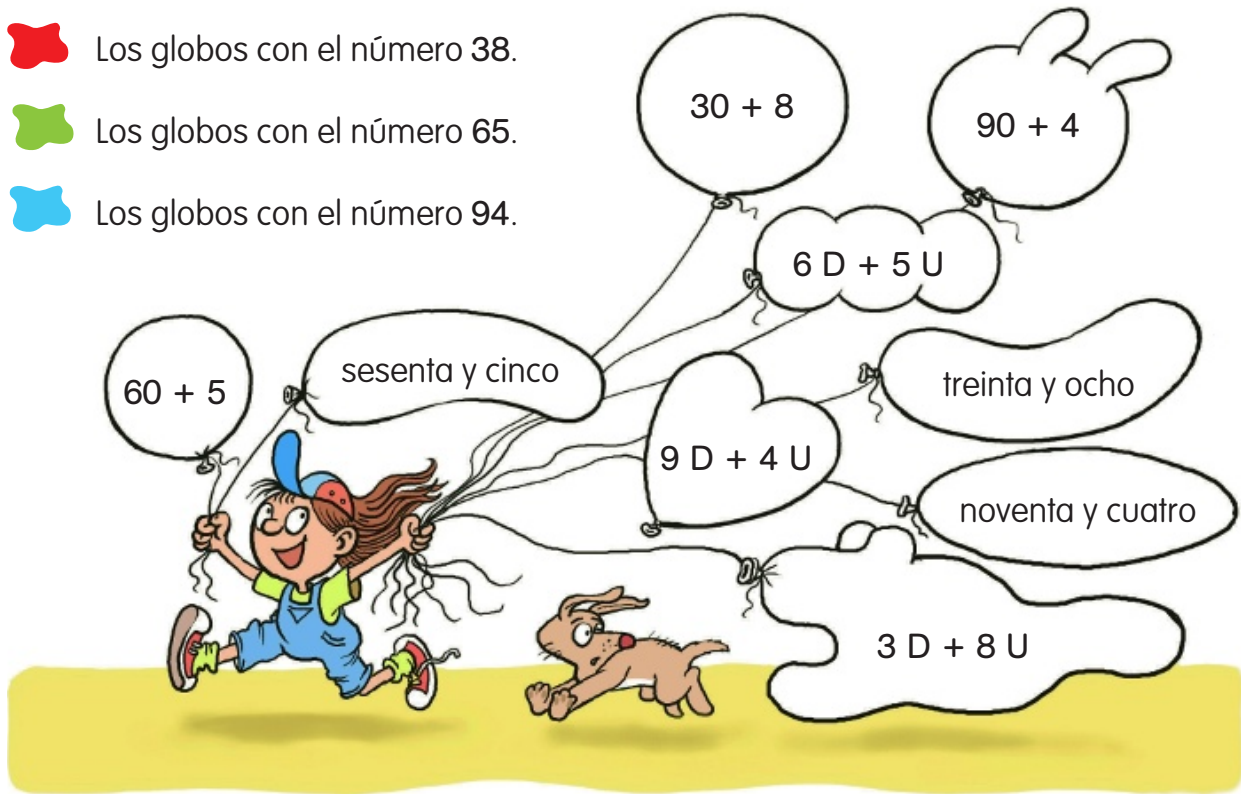


$$\square \text{ D} + \square \text{ U} = \square + \square = \square$$

▶

3.- Busca y colorea

-  Los globos con el número 38.
-  Los globos con el número 65.
-  Los globos con el número 94.



4.- ¿Qué número es? Lee y completa

- Es el número anterior a 80.
- Es el número posterior a 59.
- Es un número que tiene 5 decenas.
• La cifra de las unidades es 8.
- Es un número que tiene 7 decenas.
• La suma de sus cifras es igual a 10.

