

TERCER TRIMESTRE

Unidad 1. Matemáticas

AA

Nombre y apellidos:

Curso: Fecha:

 Relaciona cada multiplicación con su resultado:

3×5

12

5×8

24

4×3

15

3×8

40

5×7

35

2×10

50


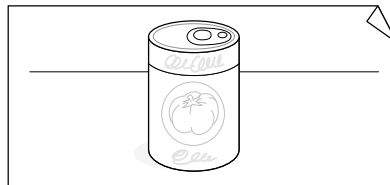
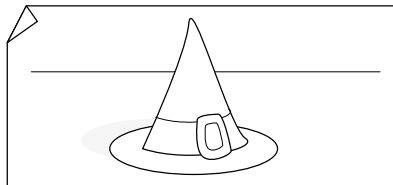
5×9

45

5×10

20

 Escribe de qué tienen forma estos objetos:



 Problema.

Ana ha comprado 3 bolsas de aceite de rosas y Raúl ha comprado 5. Si cada bolsa tiene 6 bolas, ¿cuántas bolas de aceite tienen entre los dos?

DATOS	OPERACIONES

Entre los dos tienen bolas de aceite.