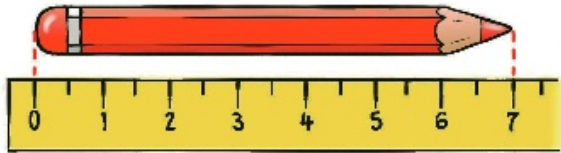


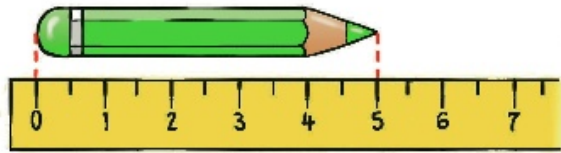
EL CENTÍMETRO

Nombre: _____ Fecha: _____


1.- ¿Cuánto miden? Observa y completa



centímetros



centímetros



centímetros




centímetros

2.- Utiliza la regla y completa




Largo ▶ centímetros

Ancho ▶ centímetros



Largo ▶ centímetros

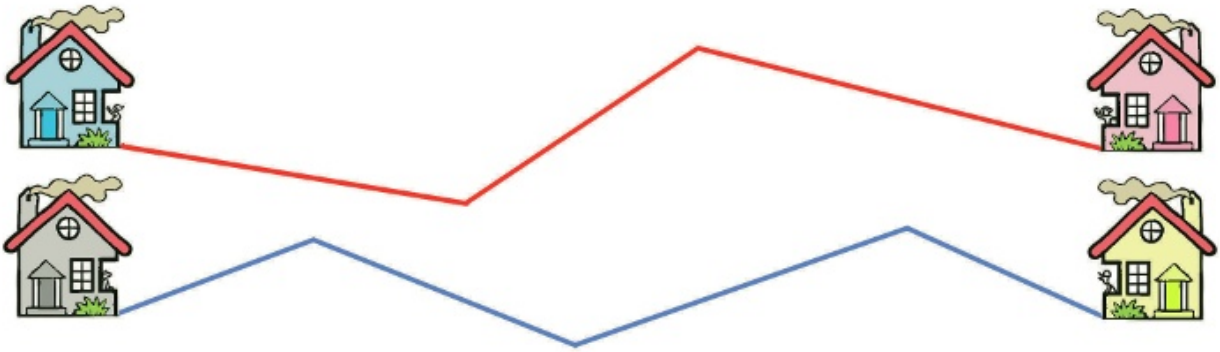
Ancho ▶ centímetros



Largo ▶ centímetros

Ancho ▶ centímetros

3.- ¿Cuánto mide cada camino? Utiliza la regla y completa




rojo: _____ + _____ + _____ = _____ cm

azul: _____ + _____ + _____ + _____ = _____ cm

► ¿Cuánto miden en total los dos caminos?

Datos: _____ y _____




Operación:

Solución: _____

4.- Resuelve

El año pasado Javier medía 103 cm y este año mide 109 cm.

Datos: _____ y _____



Operación:

Solución: _____

