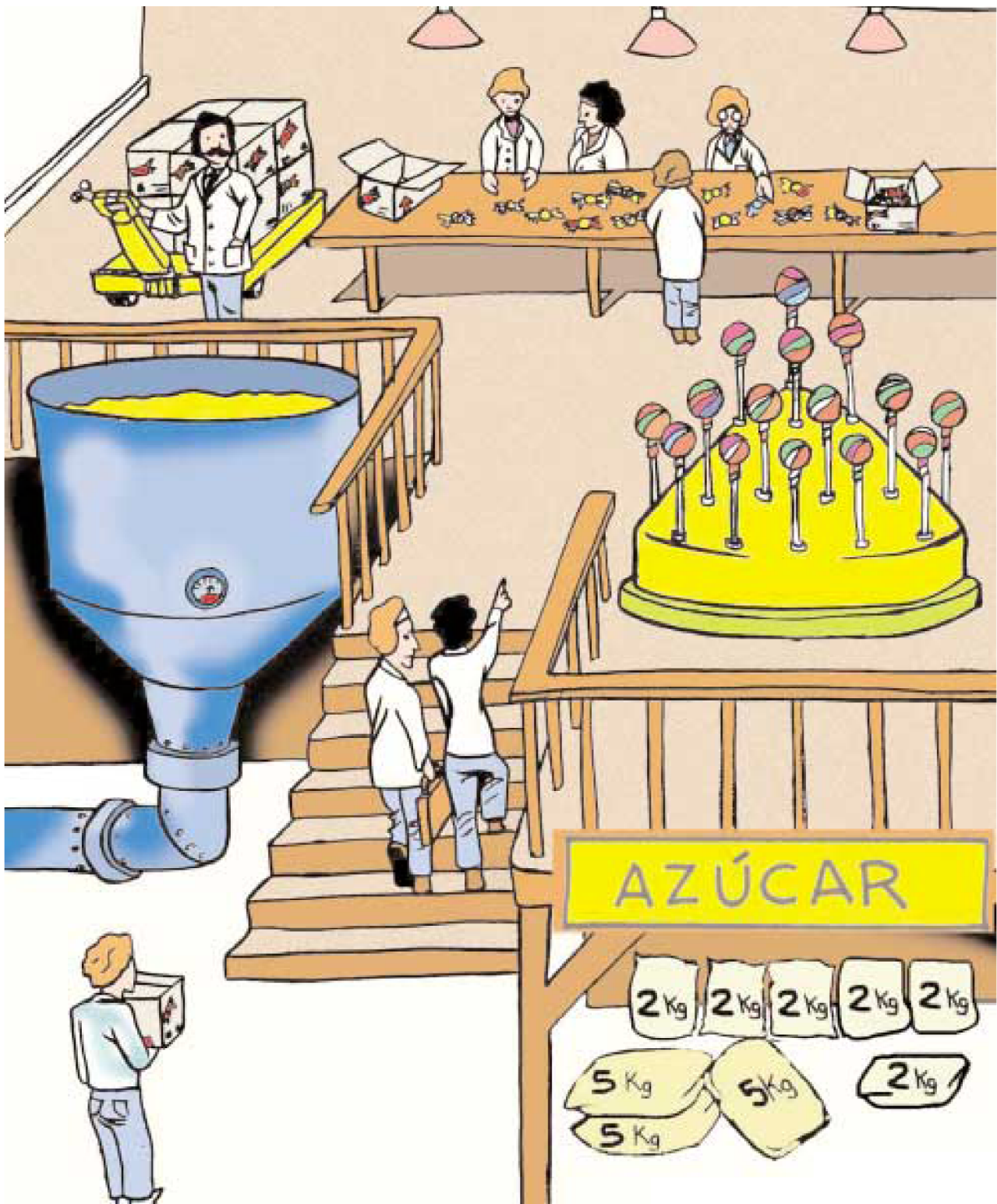


# LA FÁBRICA DE CAMELOS

## 1.- Observa



## 2.- Completa

¿Cuántos sacos de 2 kg. de azúcar hay en la ilustración? \_\_\_\_\_

¿Cuántos kg. hay en total en los sacos de 2 kg.?

Suma

$$2 + 2 + 2 + \underline{\quad} + \underline{\quad} + \underline{\quad} = \underline{\hspace{2cm}}$$

Multiplica

$$2 \times \underline{\quad} = \underline{\hspace{2cm}}$$

## 3.- Cuenta y opera



¿Cuántos sacos de 5 kg hay? \_\_\_\_\_

Suma



$$5 + 5 + \underline{\quad} = \underline{\hspace{2cm}}$$

Multiplica



$$5 \times \underline{\quad} = \underline{\hspace{2cm}}$$





## 4.- Razona

De un  salen 200 

¿Cuántos  obtengo de 2  ?

$$\underline{\hspace{2cm}} + \underline{\hspace{2cm}} = \underline{\hspace{2cm}}$$

De un  salen 100 

¿Cuántos  salen de 3    ?


Suma


$$\underline{\hspace{2cm}} + \underline{\hspace{2cm}} + \underline{\hspace{2cm}} = \underline{\hspace{2cm}}$$

Multiplica

$$\underline{\hspace{2cm}} \times 3 = \underline{\hspace{2cm}}$$

### 5.- Divide

¿Cuántos  hay en la ilustración? \_\_\_\_\_

Reparte los  que hay entre los 5 cocineros, en partes iguales. Dibuja debajo.

