

PRIMER TRIMESTRE

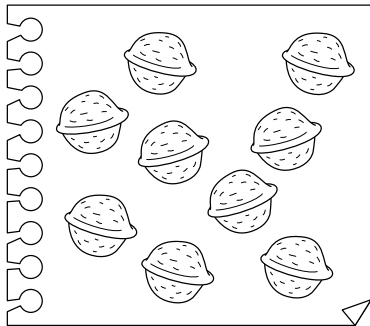
Unidad 3. Matemáticas

AA

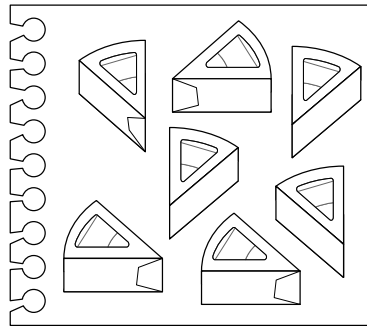
Nombre y apellidos:

Curso: Fecha:

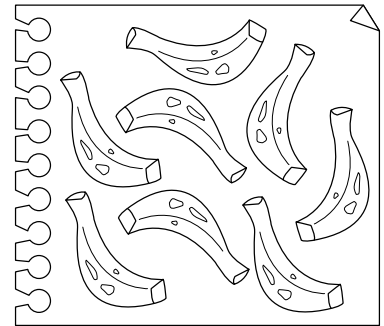
 Cuenta y rodea el número que corresponda.




6 - 8 - 9 - 7



8 - 7 - 6 - 9



7 - 8 - 9 - 6

 Suma y resta.

$$6 + 2 = \square$$

$$5 + 1 = \square$$

$$7 + 1 = \square$$

$$5 + 4 = \square$$

$$8 + 1 = \square$$

$$8 - 4 = \square$$

$$9 - 5 = \square$$

$$9 - 4 = \square$$

$$7 - 1 = \square$$

$$8 - 3 = \square$$

 Completa.

