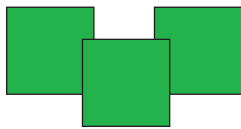


LA CENTENA

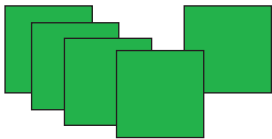
Nombre: _____ Fecha: _____

1.- Completa




3 centenas = 300 unidades

300 ▶ _____



□ centenas = □ unidades

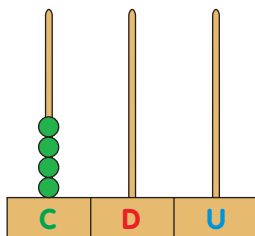
□ ▶ _____



□ centenas = □ unidades

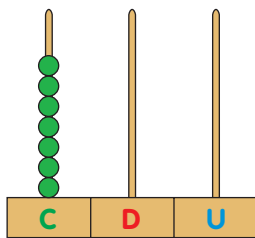
□ ▶ _____

2.- Escribe cómo se lee el número representado



□ centenas = □ unidades

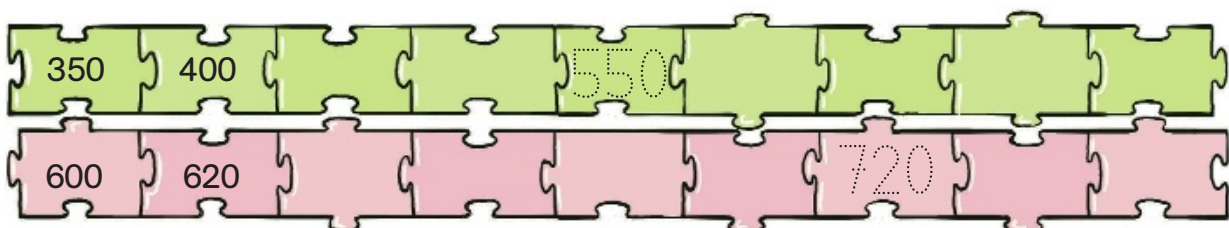
□ ▶ _____



□ centenas = □ unidades

□ ▶ _____

3.- Completa las series



4.- Escribe el número anterior y posterior

<input type="text"/>	◀	199	▶	<input type="text"/>		<input type="text"/>	◀	400	▶	<input type="text"/>
<input type="text"/>	◀	201	▶	<input type="text"/>		<input type="text"/>	◀	599	▶	<input type="text"/>
<input type="text"/>	◀	399	▶	<input type="text"/>		<input type="text"/>	◀	600	▶	<input type="text"/>

5.- Relaciona y completa el cuadro

Quinientos ●	● 300 ●	● 5 centenas ▶	<table border="1" style="border-collapse: collapse; text-align: center;"> <tr><td style="background-color: #008000; color: white;">C</td><td style="background-color: #ff0000; color: white;">D</td><td style="background-color: #0000ff; color: white;">U</td></tr> <tr><td> </td><td> </td><td> </td></tr> </table>	C	D	U			
C	D	U							
Trescientos ●	● 500 ●	● 9 centenas ▶	<table border="1" style="border-collapse: collapse; text-align: center;"> <tr><td style="background-color: #008000; color: white;">C</td><td style="background-color: #ff0000; color: white;">D</td><td style="background-color: #0000ff; color: white;">U</td></tr> <tr><td> </td><td> </td><td> </td></tr> </table>	C	D	U			
C	D	U							
Setecientos ●	● 900 ●	● 3 centenas ▶	<table border="1" style="border-collapse: collapse; text-align: center;"> <tr><td style="background-color: #008000; color: white;">C</td><td style="background-color: #ff0000; color: white;">D</td><td style="background-color: #0000ff; color: white;">U</td></tr> <tr><td> </td><td> </td><td> </td></tr> </table>	C	D	U			
C	D	U							
Novcientos ●	● 700 ●	● 7 centenas ▶	<table border="1" style="border-collapse: collapse; text-align: center;"> <tr><td style="background-color: #008000; color: white;">C</td><td style="background-color: #ff0000; color: white;">D</td><td style="background-color: #0000ff; color: white;">U</td></tr> <tr><td> </td><td> </td><td> </td></tr> </table>	C	D	U			
C	D	U							

6.- ¿Cuántos cromos tiene cada niño? Lee y relaciona

María tiene dos centenas de cromos.
 Jorge tiene una centena menos que María.
 Inés tiene dos centenas más que Jorge.



María



Jorge



Inés

100 cromos

200 cromos

300 cromos