

TERCER TRIMESTRE

Unidad 4. Matemáticas

AA

Nombre y apellidos:

Curso: Fecha:

Completa el término que falta.




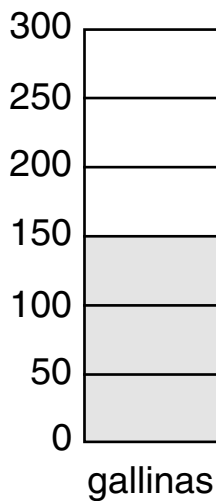
$$\begin{array}{r} 24 \\ \times \square \\ \hline 168 \end{array}$$

$$\begin{array}{r} 13 \\ \times 9 \\ \hline \square \end{array}$$

$$\begin{array}{r} 2\square \\ \times 7 \\ \hline 175 \end{array}$$


$$\begin{array}{r} \square 6 \\ \times 9 \\ \hline 144 \end{array}$$

Busca la información en los gráficos y contesta.



¿Qué hay más, gallinas o vacas?

¿Cuántos animales hay en total?



Hay animales en total.