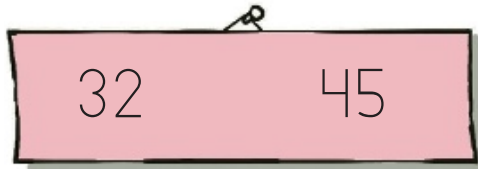


COMPARACIÓN DE NÚMEROS DE DOS CIFRAS

Nombre: _____ Fecha: _____

1.- Compara y completa

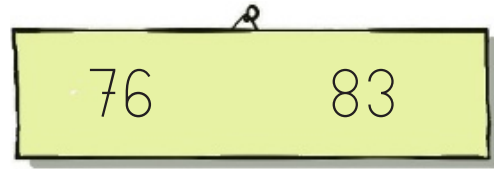


32 es menor que

32 <

45 es mayor que

45 >



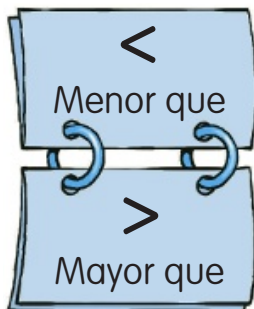
es menor que

<

es mayor que

>

2.- Escribe el signo < o >



38 ○ 76

65 ○ 61

79 ○ 77

40 ○ 28

73 ○ 79

86 ○ 80

53 ○ 80

84 ○ 88

92 ○ 90

91 ○ 89


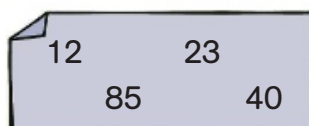
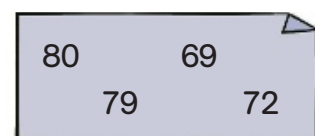

97 ○ 95

93 ○ 96

3.- Rodea

 El número mayor.

 El número menor.



4.- Ordena

- De menor a mayor: 65, 43, 91, 37.

 ○ ○ ○

- De menor a mayor: 90, 63, 73, 93.

 ○ ○ ○

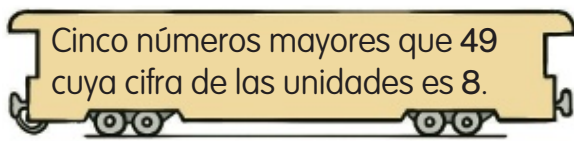
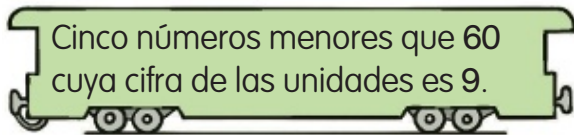
- De mayor a menor: 18, 68, 36, 71.

 ○ ○ ○

- De mayor a menor: 62, 89, 81, 48.

 ○ ○ ○

5.- Piensa y escribe

6.- Lee y resuelve

- Andrea, María y Alex son hermanos. Alex es el mayor y tiene 14 años. Andrea es la pequeña y tiene 10 años. ¿Cuántos años puede tener María?

- Celia, Berta y Yolanda son primas. Yolanda es mayor que Berta y Berta es mayor que Celia. ¿Quién tiene más años? ¿Quién tiene menos años?

Tiene más años

Tiene menos años

