


SUMAS DE TRES NÚMEROS SIN LLEVAR


Nombre: _____ Fecha: _____

1.- Coloca los números y suma


$12 + 34 + 20$




$5 + 41 + 52$








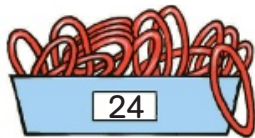
$81 + 6 + 12$



$32 + 43 + 4$



2.- ¿Cuántas anillas hay? Observa el dibujo y calcula



3.- Completa el número que falta

$9 + 1 + \square = 18$

$2 + 4 + \square = 13$

$3 + \square + 6 = 17$

$8 + 2 + \square = 16$

$4 + 5 + \square = 14$

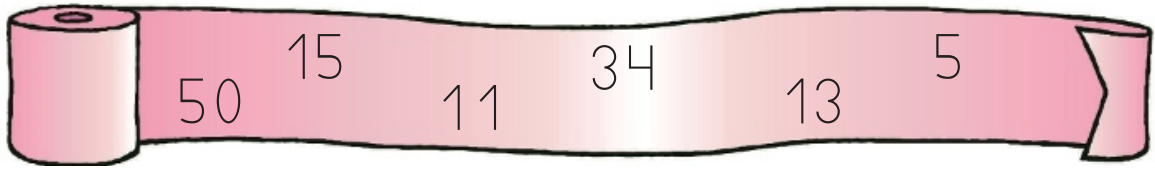
$5 + \square + 7 = 18$

$7 + 3 + \square = 15$

$6 + 7 + \square = 19$

$6 + \square + 8 = 19$

4.- Observa los números y calcula



- La suma de los tres números mayores.

Números mayores ►

Suma ►

- La suma de los tres números menores.

Números menores ►

Suma ►

5.- Lee y resuelve

Jaime lleva un carro cargado con zumos. Lleva 40 de naranja, 26 de limón y 34 de piña. ¿Cuántos zumos lleva en total?

Datos ► , y

Operación ►

Solución ►

