



# CONTAMOS

Bob Esponja, Calmardo, Arenita y Patricio tienen una cantidad distinta de bolas y todos quieren más. ¿Cuántas bolas tendrán al final cada uno? Puedes ayudarte pintando primero las bolas que te dicen que quieren y luego cuenta desde las bolas que ya tienes.

Tengo 4 bolas y quiero 6 más



Tengo 2 bolas y quiero 7 más




Bob Esponja tiene:


Patricio tiene:



Tengo 5 bolas y quiero 3 más



Tengo 3 bolas y quiero 8 más



Estrellita tiene:

Calmardo tiene:

