

# SEGUNDO TRIMESTRE

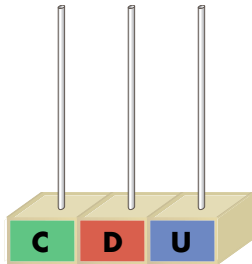
## Unidad 4. Matemáticas

AR

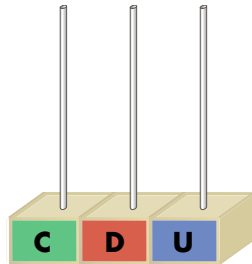
Nombre y apellidos: .....

Curso: ..... Fecha: .....

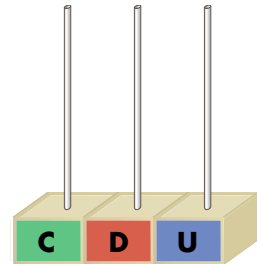
 Completa y dibuja.



$$800 + 50 + 6 = \square$$



$$800 + 9 = \square$$






$$800 + 90 + 5 = \square$$

 Coloca y realiza.

4	5	0	+	8	9	+	5		3	7	9	+	2	8	+	1	2	7

 Problema.

Jorge tiene 85 cromos; Aurora, 75, y Paco, 58. Si los juntan, ¿cuántos les faltan para completar la colección de 250 cromos?



Les faltan  cromos.