



LOS NÚMEROS DEL 100 AL 199

Nombre: _____ Fecha: _____


1.- Completa



C + D + U
 + + =
 ▶ _____



C + D
 + =
 ▶ _____



C + U
 + =
 ▶ _____

2.- Completa la tabla

Número	Lectura
139	
148	
175	
	ciento veinticinco
	ciento sesenta y siete
	ciento noventa y cuatro



- ¿Qué número tiene mayor la cifra de las decenas?
- ¿Qué número tiene 7 unidades?