

SUMAS Y RESTAS SIN LLEVAR

Nombre: _____ Fecha: _____

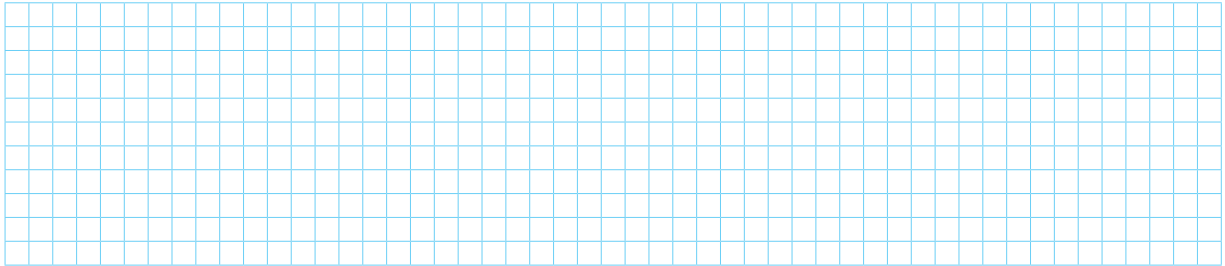
1.- Coloca los números y calcula

$123 + 154$

$142 + 46$

$278 - 120$


$295 - 31$




2.- Observa los números y calcula



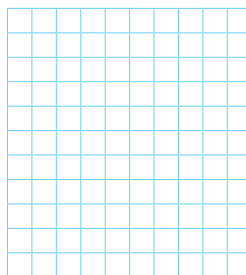
Su suma




Su resta



Su suma



Su resta



3.- Completa la serie


200 → Suma 75 → 275 → Resta 12 → → Suma 24 →

100 → Suma 120 → 220 → Resta 110 → → Suma 65 →

4.- Observa el dibujo y calcula




- ¿Cuántas piezas en total tienen los dos juegos de construcción?




Tienen _____

- ¿Cuántas piezas tiene el juego pequeño menos que el grande?



- María tiene un juego con 40 piezas más que el juego pequeño. ¿Cuántas piezas tiene el juego de María?



- Javier tiene un juego con 20 piezas menos que el juego grande. ¿Cuántas piezas tiene el juego de Javier?

