

Nombre y apellidos:

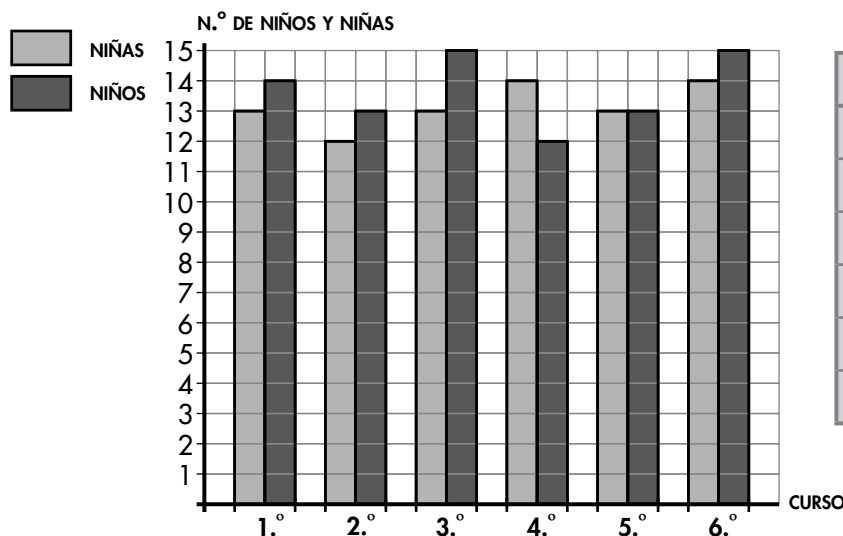
Curso: Fecha:

- 1 En la tabla se ha anotado el número de tartas vendidas en una pastelería. Completa la tabla y contesta.

| | LUNES | MARTES | MIÉRCOLES | JUEVES | VIERNES | SÁBADO | DOMINGO | TOTAL |
|-----------|-------|--------|-----------|--------|---------|--------|---------|-------|
| CHOCOLATE | 12 | | 14 | | 16 | 18 | 20 | 109 |
| MANZANA | 13 | 13 | 12 | 13 | | 16 | 15 | |
| ALMENDRA | 12 | 11 | 12 | 12 | 13 | 12 | 14 | |
| FRESA | 11 | 14 | 13 | 11 | 12 | 15 | | 94 |
| TOTAL | | 52 | | | 55 | | | |

- a) ¿Qué día vendieron más tartas?
- b) ¿Qué clase de tarta fue la más vendida?
- c) ¿Cuántas tartas se vendieron en total?

- 2 En esta gráfica se recoge el número de niños y niñas del colegio de Ainhoa. Completa la tabla y contesta a las preguntas.



| CURSO | NIÑAS | NIÑOS | TOTAL |
|-------|-------|-------|-------|
| 1.º | | | |
| 2.º | | | |
| 3.º | | | |
| 4.º | | | |
| 5.º | | | |
| 6.º | | | |
| TOTAL | | | |

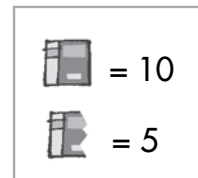
- a) ¿En qué curso hay más niñas que niños?
- b) ¿En qué curso hay el mismo número de niñas que de niños?
- c) ¿Cuál es el curso que tiene 28 niños y niñas?

Nombre y apellidos:

Curso: Fecha:

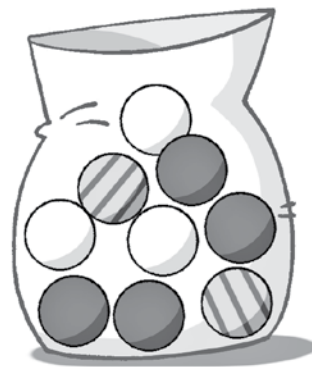
3 En este pictograma se representa el número de libros vendidos en una librería la semana pasada. Observa y contesta.

| | |
|-----------|---|
| LUNES |  |
| MARTES |  |
| MIÉRCOLES |  |
| JUEVES |  |
| VIERNES |  |
| SÁBADO |  |



- a) ¿Qué día vendieron más libros? ¿Y menos?
- b) ¿Cuántos libros vendieron el miércoles? ¿Y el lunes?
- c) ¿Qué día vendieron más libros, el lunes o el jueves?
- ¿Cuántos más?

4 Considera la experiencia SACAR DE LA BOLSA UNA BOLA SIN MIRAR.



- a) ¿Qué bola es más probable sacar?
- b) ¿Qué es más probable, que sea blanca o rayada?
-
- ¿Por qué?
-